

ヒント 1-1

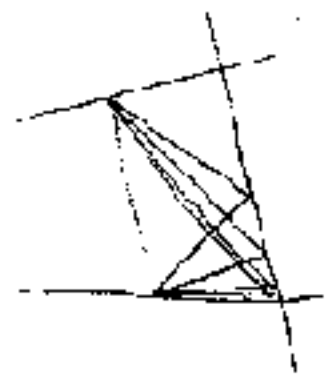
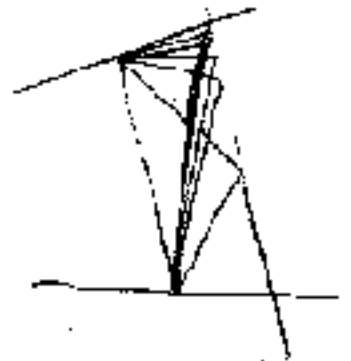
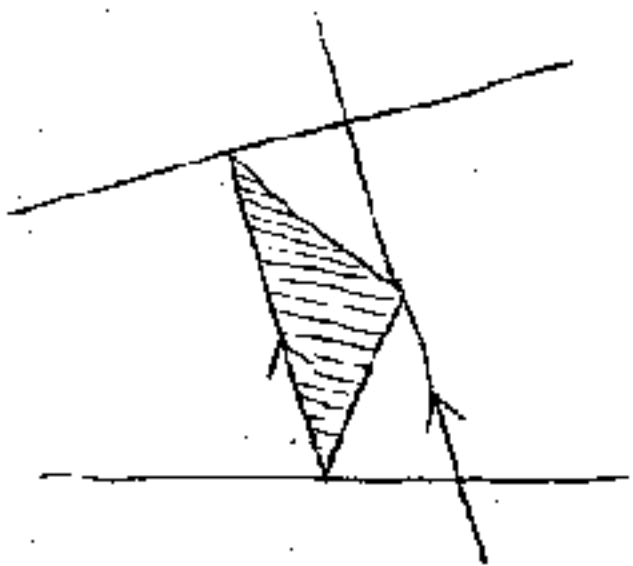
TIMSS
JP-012

Nov. 27, 77
Kaminokawa, Tochigi

どこかに 2本、直線をひいて、
三角形 と 平行線 を
作ってみよう。

TIMSS
JP 012

ヒント 1-2



この三角形と面積が
同じ三角形を見つけよう。